

# 小学一年级数学下册作业设计

## 第1节：复习加减混合（1）

### 一、算一算。

$3+2=$      $2+7=$      $10+9=$      $6+3=$

$7-4=$      $8-4=$      $6+4=$      $10-7=$

$6+3=$      $6+5=$      $1+8=$      $8+2=$

$9-4=$      $7+3=$      $9-8=$      $5-5=$

### 二、算一算。

$4+3-2=$      $4-2+3=$      $2+3+4=$      $9-6+3=$

$8-2-2=$      $9+1-5=$      $4+5-7=$      $3+7-2=$

$1+4+5=$      $10-4-4=$      $2+7+0=$      $7-6+5=$

$8-1-3=$      $2+6-7=$      $3+3+3=$      $7+2-5=$

$10-6+5=$      $9-2-2=$      $9-8+5=$      $10-4+5=$

### 三、在 填数。

$6+ \quad =10$                        $\quad +7=9$                $9+ \quad =10$

$8+ \quad =10$                $5+ \quad =7$                $10+ \quad =10$

$\quad +5=9$                        $\quad +7=10$                        $\quad +3=8$

$2+ \quad =$                        $\quad +3=7$                        $5+ \quad =10$

### 四、填空后写出四个算式。

$10 \begin{array}{l} \diagdown \\ \diagup \end{array} \begin{array}{c} \square \\ 6 \end{array}$

=

=

=

=

## 复习加减混合（2）

### 一、算一算。

$9-4=$      $7-7=$      $10-5=$      $6+3=$      $8+2=$

$10+0=$      $10-0=$      $0+9=$      $5+5=$      $10-6=$

$9-9=$      $0+0=$      $0-0=$      $9+1=$      $10-1=$

### 二、算一算。

$3+7-5=$      $8-6+2=$      $10-7+0=$      $9-6+5=$

$10-6+0=$      $8-7+1=$      $3+2+4=$      $10-3-7=$

$10-6+2=$      $8-8+8=$      $10-9+7=$      $9+3-8=$

$8+2-7=$      $4+5+1=$      $7-7+6=$      $2+3-5=$

### 三、在括号里填上适当的数。

$3+( )=10$      $( )+2=8$      $( )+( )=10$

$9+( )=10$      $8+( )=9$      $4+( )=9$

$( )+6=8$      $( )+2=7$      $( )+7=8$

$4+( )=10$

## 认识图形 ( 1 )

### 一、填空。



(1) 长方形有 ( ) 条边, 正方形有 ( ) 条边, 三角形有 ( ) 条边。

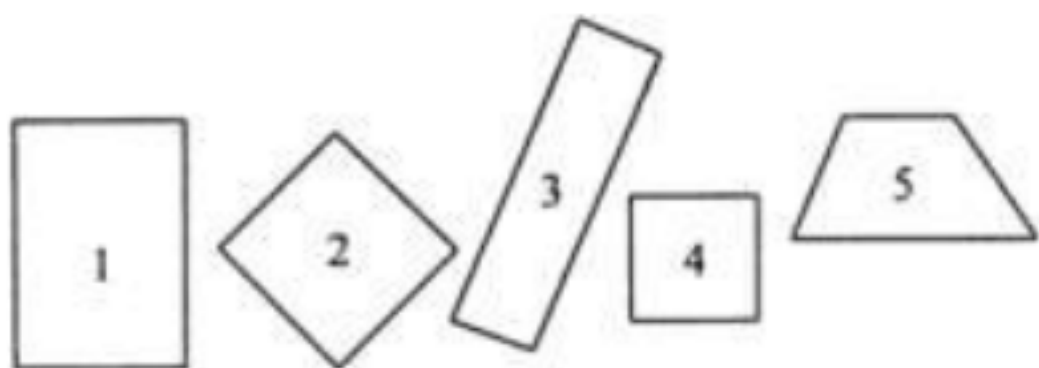
(2) 用 ( ) 根小棒可以摆一个长方形。

(3) 用 ( ) 根小棒可以摆一个正方形。

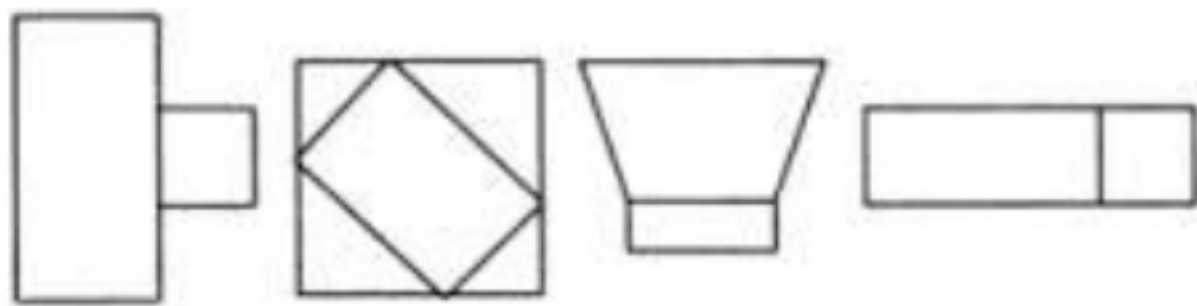
(4) 用 ( ) 根小棒可以摆一个三角形。


(5) 硬币是 ( ) 的。

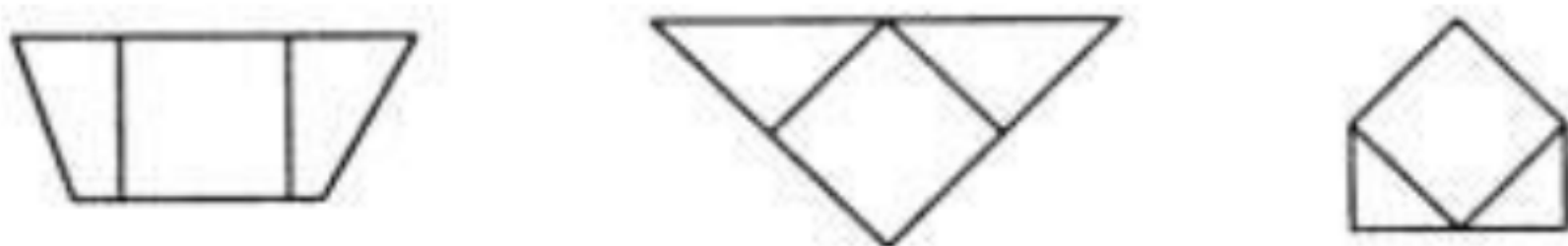
二、 有 ( )  有 ( )



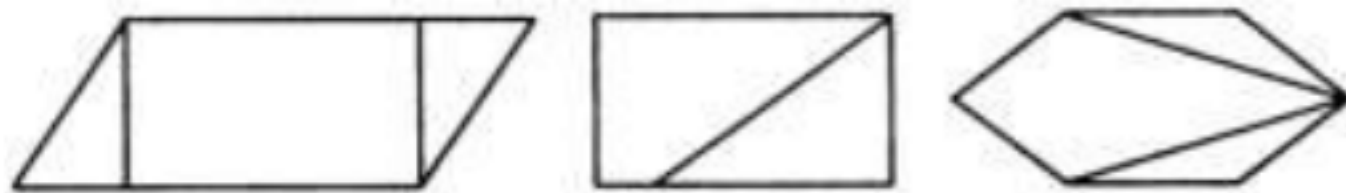
三、给  涂上颜色。




四、给  涂上颜色。



五、给 涂上颜色。



六、给 涂上颜色。



七、



八、计算。



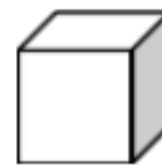

如果  $\triangle = 2$  ,  $\square = 3$  ,  $\bigcirc = 5$  , 那么

$$\triangle + \triangle = ( \quad ) \quad \triangle + \bigcirc = ( \quad )$$

$$\triangle + \square = ( \quad ) \quad \triangle + \square = ( \quad )$$

## 认识图形 ( 2 )

一、用下面的长方体、正方体和圆柱可以画出哪些图形？连一连。



二、我会填。

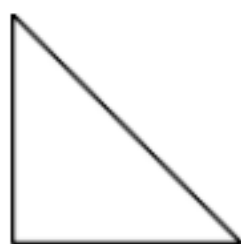
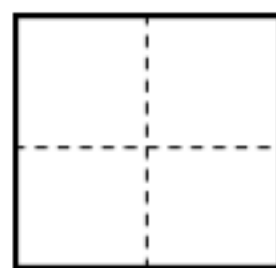
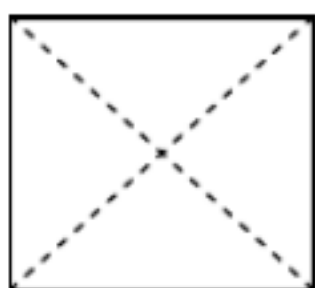
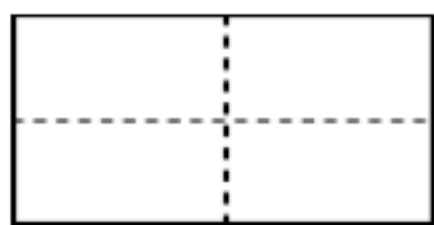
- 1、长方形有 ( ) 条边，正方形有 ( ) 条边，三角形有 ( ) 边。
- 2、用 ( ) 根小棒可以摆一个长方形；用 ( ) 根小棒可以摆一个三角形。
- 3、硬币是 ( ) 形；红领巾是 ( ) 形；课桌面是 ( ) 形。
- 4、长方形相对的边 ( )；( ) 形四条边一样；平行四边形相对的边 ( )。
- 5、从左往右数第 ( ) 个是圆形，第 ( ) 个是正方形，一共有 ( ) 个长方形。



三、我会判断。

- 1、两个一样大的正方形可以拼成一个长方形。 ( )
- 3、长方形就是正方形。 ( )
- 2、两个三角形可以拼成一个四边形。 ( )

四、它们折出来是什么样子？连一连。



## 知识回顾

一、读一读，想一想，填一填。

15 前面一个数是 (        )，后面一个数是 (        )。

一个数，个位是 7，十位是 1，这个数写作 (        )，读作 (        )。

和 19 相邻的两个数是 (        ) 和 (        )。

12 在 11 的 (        ) 面；8 在 9 的 (        ) 面。

18 里面有 (        ) 个十和 (        ) 个一。

15 的十位是 (        )，表示 (        ) 个 (        )；个位是 (        )，表示 (        ) 个 (        )。

由 6 个一和一个十合起来的数写作 (        )，读作 (        )。

最小的两位数是 (        )，最大的一位数是 (        )，它们的差是 (        )，和是 (        )。

二、在 (        ) 里填数。

$$4 + ( \quad ) = 11 \quad 9 + ( \quad ) = 14 \quad ( \quad ) + 9 = 16 \quad ( \quad ) + 7 = 14$$

$$8 + ( \quad ) = 16 \quad ( \quad ) + 8 = 13 \quad 6 + ( \quad ) = 10 \quad ( \quad ) + 6 = 11$$

$$5 + ( \quad ) = 13 \quad ( \quad ) - 3 = 10 \quad 16 - ( \quad ) = 10 \quad 17 - ( \quad ) = 7$$

$$9 - ( \quad ) = 5 \quad ( \quad ) - 4 = 4 \quad ( \quad ) - 3 = 4 \quad ( \quad ) - 5 = 10$$

三、算一算。

$$9 - 3 = \quad 8 - 6 = \quad 7 - 5 = \quad 6 - 5 = \quad 4 - 3 = \quad 2 + 3 =$$

$$2 + 9 = \quad 9 + 1 = \quad 6 + 2 = \quad 1 + 1 = \quad 9 + 3 = \quad 6 + 9 =$$

$$8 + 5 = \quad 6 + 8 = \quad 7 + 4 = \quad 5 + 7 = \quad 6 + 8 = \quad 7 + 6 =$$

$$5 + 5 = \quad 6 + 5 = \quad 15 - 5 = \quad 17 - 10 = \quad 14 - 3 = \quad 18 - 5 =$$

$13+4=$

$12+3=$

$14+2=$

$10+10=$

$20+20=$

$20-10=$

$8-8=$

$17-17=$

$6-0=$

$15-0=$

$0+9=$

$16+0=$

$6+0=$

$0+13=$

$19+1=$

$12+8=$



## 认识图形综合作业（1）

### 一、填一填。

- 1、长方形有（ ）条边，正方形有（ ）条边，三角形有（ ）边。
- 2、用（ ）根小棒可以摆一个长方形；用（ ）根小棒可以摆一个三角形。
- 3、硬币是（ ）形；红领巾是（ ）形；课桌面是（ ）形。
- 4、长方形相对的边（ ）；（ ）形四条边一样；平行四边形相对的边（ ）。

### 二、连线。



梯形      三角形      圆      平行四边形      正方形      长方形

### 三、算一算。

#### 1、填方框。

$\square + 7 = 16$	$15 - \square = 5$	$8 + \square = 14$
$\square - 10 = 4$	$10 + \square = 15$	$10 - \square = 7$

#### 2、在 里填上“>”“<”或“=”。

$5+9$	$14$	$9$	$18-10$	$7+8$	$16$
$10-8$	$7$	$12$	$3+8$	$9+6$	$15$

#### 3、算一算。

$8+7=$	$12-12=$	$6+10=$	$12+4=$
$7+5=$	$2+8=$	$7+0=$	$8-3=$
$19-9=$	$16-4=$	$2+7=$	$6+9=$
$11-10=$	$9-0=$	$0+0=$	$9+9=$

## 认识图形综合作业（2）

### 一、我会判断。

- 1、两个一样大的正方形可以拼成一个长方形。 ( )
- 3、长方形就是正方形。 ( )
- 2、两个三角形可以拼成一个四边形。 ( )

### 二、填一填。

- 1、11 个位上是 ( )，表示 ( ) 个 ( )；十位上也是 ( )，表示 ( ) 个 ( )。
- 2、由 7 个一和 1 个十合起来的数是 ( )，读作 ( )。
- 3、最小的两位数是 ( )，最大的一位数是 ( )。它们的差是 ( )。
- 4、和 19 相邻的两个数是 ( ) 和 ( )；12 在 11 的 ( ) 面。
- 5、我们排队，我的前面有 6 人，后面有 7 人，我们这一排一共有 ( ) 人。
- 6、( ) 点整时，时针和分针重合；( ) 点整时，时针和分针成一条直线。
- 7、18 里面有 ( ) 个十和 ( ) 个一。

### 三、计算。

#### 1、算一算。

$$\begin{array}{ccc} 3+6+4= & 19-3-5= & 17-7+3= \\ 6+7-2= & 9-6+8= & 7+3-8= \end{array}$$

#### 2、列式算一算。

一个加数是 6，另一个加数是 7，减数是 8，被减数是 9，差是多少？

和是多少？

=

=

四、解决问题。

1、我养了 8 条小金鱼，我养的和你同样多。他们一共养了多少条小金鱼？

= ( 条 )

答：一共养了 ( ) 条小金鱼。

2 、教室里面有 12 小同学，出去了 2 人。教室里还有几个小同学？

= ( 人 )

答：还有 ( ) 小同学。

3 、我有 9 颗水果糖，吃了一些，还剩 3 颗，吃掉多少颗？

= ( 颗 )

答：吃了 ( ) 颗

## 认识图形综合作业（3）

### 一、填一填。

- 1、用两个完全一样的三角形可以拼成一个（ ）。
- 2、将一张正方形纸对折后剪开：（1）能剪成两个相同的（ ）；  
（2）也能剪成两个相同的（ ）。

### 二、计算。

- 1、在 里填上“>”“<”或“=”。

5+9	14	9	18-10	7+8	16
10-8	7	12	3+8	9+6	15

### 2、算一算。

8+7=	1-1=	7+10=	13+4=
7+5=	3+8=	7+0=	9-3=
19-9=	17-4=	2+7=	6+9=
11-10=	9-0=	10-0=	8+8=

### 4、算一算。

3+8+4=	17-3-4=	16-6+4=
6+7-2=	9-6+9=	7+3-8=

### 三、解决问题。

- 1、教室里面有 12 小同学，出去了 2 人。教室里还有几个小同学？  
=（人）

答：还有（ ）小同学。

- 2、我有 9 颗水果糖，吃了一些，还剩 3 颗，吃掉多少颗？

= ( 颗 )

答：吃了 (       ) 颗。

## 综合练习

### 一、填一填。

- 1、从右边起第一位是( )位,第二位是( )位。
- 2、一个数,个位是 7,十位是 1,这个数写作( ),读作( )。
- 3、18 里面有( )个十和( )个一。

### 二、把下面各数按从小到大的顺序排列。

5, 17, 8, 11, 3, 19

( ) < ( ) < ( ) < ( ) < ( ) < ( )

### 三、计算部分。

#### 1、在( )里填数。

$$4 + ( ) = 11 \quad 9 + ( ) = 14 \quad ( ) + 9 = 16$$
$$( ) - 3 = 10 \quad 16 - ( ) = 10 \quad 17 - ( ) = 7$$

#### 2、在 里填上“+”或“-”。

$$5 \quad 8 = 13 \quad 10 \quad 0 = 10 \quad 7 \quad 7 = 0$$
$$15 \quad 10 = 5 \quad 10 \quad 3 = 7 \quad 9 \quad 5 = 14$$

#### 3、在 填上“>”“<”或“=”。

$$7 + 8 \quad 15 \quad 12 \quad 3 + 8 \quad 5 + 7 \quad 7 + 9$$

#### 4、算一算。

$$9 - 3 = \quad 3 + 9 = \quad 6 + 8 = \quad 8 - 0 =$$
$$7 + 6 = \quad 14 - 4 = \quad 5 + 6 = \quad 17 - 10 =$$
$$4 + 9 = \quad 12 + 6 = \quad 19 - 5 = \quad 12 - 12 =$$
$$9 + 0 = \quad 10 - 0 = \quad 3 + 8 = \quad 8 + 8 =$$

5 、 两步计算。

$3+8+6=$

$15-5-6=$

$7+6-10=$

$9-7+8=$

$9-5+4=$

$16-16+7=$

四、 解决问题。

现在有 4 把椅子，要来 14 人，每人 1 把椅子，还需要多少把椅子？

第二单元 20 以内的退位减法

十几减 9 (1)

一、直接写出得数。

$10+7=$	$9+6=$	$5+9=$	$8+4=$
$9+4=$	$2+9=$	$7+6=$	$9+8=$
$16-4=$	$10-9=$	$10-4=$	$10-3=$

二、算一算。

$9+2=$	$9+5=$	$9+8=$	$9+7=$
$11-9=$	$14-9=$	$17-9=$	$16-9=$

三、用你喜欢的方法计算。

$12-9=$	$18-9=$	$14-9=$	$11-9=$
$16-9=$	$15-9=$	$13-9=$	$17-9=$
$8+8=$	$3+9=$	$7+7=$	$9+6=$
$6+8=$	$5+6=$	$6+7=$	$8+5=$

四、在 里填上 >、<或=。

$14-9$	$4$	$9+7$	$17$	$12-9$	$5$
$17$	$9+8$	$15-9$	$6$	$9$	$17-9$

五、解决问题。

共有 18 本书，发给同学 9 本，还剩下几本？



## 十几减 9 (2)

### 一、直接写出得数。

$9+6=$

$13+5=$

$6+7=$

$8+9=$

$10+7=$

$16-4=$

$9+2=$

$17-3=$

$8-4=$

$19-7=$

$18-10=$

$4+5=$

### 二、算一算。

$6+9=$

$9+8=$

$3+9=$

$9+9=$

$12-9=$

$17-9=$

$14-9=$

$16-9=$

### 三、填数。

$9 + ( \quad ) = 14$

$( \quad ) + 9 = 16$

$9 + ( \quad ) = 18$

$14 - 9 = ( \quad )$

$15 - 9 = ( \quad )$

$18 - 9 = ( \quad )$

### 四、填一填。

1、16 的个位是 (     )，表示 (     ) 个 (     )；“1”在 (     ) 位上，表示 (     ) 个 (     )。

2、长成一个 大正方体 至少需要 (     ) 个 

3、15 里面有 (     ) 个十和 (     ) 个一；20 里面有 (     ) 个十。

### 五、解决问题。

今天我要做 14 道题，已经做好 9 道，还要做几道？

## 十几减 8

一、直接写出得数。

$$\begin{array}{cccc} 10+8= & 8+6= & 5+8= & 8+4= \\ 8+4= & 2+8= & 7+6= & 8+8= \\ 16-4= & 10-8= & 10-4= & 10-3= \end{array}$$

二、算一算。

$$\begin{array}{cccc} 8+2= & 8+5= & 8+8= & 8+7= \\ 11-8= & 14-8= & 17-8= & 16-8= \end{array}$$

四、用你喜欢的方法计算。

$$\begin{array}{cccc} 12-9= & 18-8= & 14-8= & 11-8= \\ 16-8= & 15-8= & 13-8= & 12-8= \\ 9+8= & 3+8= & 7+8= & 8+6= \\ 6+9= & 5+6= & 6+7= & 8+5= \end{array}$$

五、在 里填上“>”、“<”或“=”。

$$\begin{array}{cccccc} 14-8 & 5 & 9+8 & 17 & 12-8 & 5 \\ 17 & 8+8 & 15-8 & 6 & 9 & 17-8 \end{array}$$

六、解决问题。

教室里有 12 个同学，其中女同学有 5 个。男同学有几个？

十几减几 8、7、6(1)

一、直接写出得数。

$8+5=$	$6+6=$	$13-9=$	$16-9=$
$7+4=$	$6+5=$	$6+8=$	$14-9=$
$9+6=$	$8+7=$	$6+7=$	$5+8=$

二、算一算。

$7+6=$	$8+4=$	$6+5=$	$17-7=$
$12-8=$	$11-6=$	$13-6=$	$12-4=$
$11-5=$	$17-8=$	$12-9=$	$15-8=$

三、两步计算。

$17-9+2=$	$12-9-3=$	$19-9-6=$
$6+5-9=$	$7+8-9=$	$18-5-9=$

四、在 里填上“>”、“<”或“=”。

$14-8$	$7$	$15-7$	$11-3$	$16-9$	$13-6$
$8$	$15-6$	$11-6$	$12-7$	$18-10$	$12-5$

五、解决问题。

1、一共有 12 个风车，我们要买 7 个。还剩几个？

2、同学们植树，第一组植树 6 棵，第二组植树 8 棵，一共植树多少棵？

十几减几 8、7、6(2)

一、填一填。

1、比 16 大、比 19 小的数是 ( ) 和 ( )。

2、18 里面有 ( ) 个十, ( ) 个一。

3、12 前面的数是 ( ), 17 后面的数是 ( )。

二、直接写出得数。

$8+6=$        $12-4=$        $18-9=$        $11-2=$

$13-8=$        $7+9=$        $11-5=$        $6+5=$

$17-9=$        $14-7=$        $15-7=$        $16-8=$

三、两步计算。

$5+4+7=$        $13-9+7=$        $13-4-6=$

$9+6-7=$        $7+8-9=$        $16-8-7=$

$14-8-4$        $15-3-8=$        $11-4+6=$

四、在 里填上“>”、“<”或“=”。

$16-8$  9       $14-7$       6       $12-6$       6

5       $15-8$       7       $13-7$       8       $11-6$

五、解决问题。

1、有 12 棵白菜, 吃了 3 棵, 还剩多少棵?

2、我钓了 6 条鱼, 妈妈钓了 9 条鱼, 我们一共钓了几条鱼?

十几减几 5、4、3、2(1)

一、直接写出得数。

$13-6=$        $13+4=$        $18-9=$        $6+6=$

$9+5=$        $12-7=$        $8+7=$        $7+9=$

$17-8=$        $11-6=$        $5+8=$        $15-8=$

二、在 里填数。

$5+ \quad =13$      $4+ \quad =13$      $6+ \quad =14$

$13-4=$        $14-5=$        $11-5=$

三、在 里填上“>”、“<”或“=”。

$11-6$      $5$        $12-7$        $7$        $8$        $15-6$   
 $13-5$      $17-9$      $16-9$        $13-7$      $12-5$        $11-3$

四、算一算。

$13-4+7=$      $6+9-4=$      $12-6+8=$      $17-9-4=$

$5+3+9=$      $6+7-5=$      $4+8+6=$      $11-3-3=$

$17-2+4=$      $12-4+5=$      $8+7-9=$      $15-7+6=$

五、解决问题。

1、原有 17 本故事书，卖出 9 本，还剩多少本？

2、卖出 7 本科技书，还剩下 8 本，原来有多少本？

## 十几减几 5、4、3、2(2)

### 一、填一填。

1、一个两位数，个位上是 7，十位上是 1，这个数是（ ），读作（ ）。

2、在 16 这个数中，个位上的数是（ ），表示（ ）个（ ）；  
十位上的数是（ ），表示（ ）个（ ）。

### 二、直接写出得数。

$14-9=$      $11-9=$      $13+6=$      $6+5=$

$5+8=$      $13-6=$      $16-9=$      $12-7=$

$7+8=$      $17-8=$      $14-6=$      $15-8=$

### 三、两步计算。

$14-7+5=$      $17-8-7=$      $9+5+4=$      $11+4-8=$

$12-6+8=$      $13-9+9=$      $9+5-8=$      $12-6+9=$

### 四、解决问题。

1、树上的小鸟飞走了 7 只，还有 5 只，原来树上一共有几只小鸟？

2、我有 10 支水彩笔，小明的和我的同样多。两人一共有多少支水彩笔？

## 综合作业

### 一、直接写出得数。

$11-2=$      $6+5=$      $12-4=$      $8+9=$

$5+8=$      $14-8=$      $8+9=$      $11-5=$

$11-7=$      $6+6=$      $12-3=$      $16-7=$

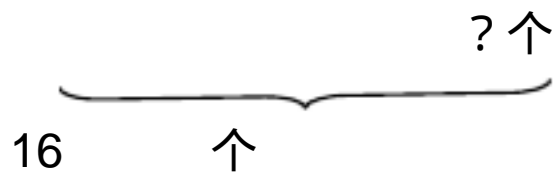
$3+8=$      $17-9=$      $15-6=$      $13-6=$

$16-4-7=$      $12-6+9=$      $9+4-7=$      $9+5-8=$

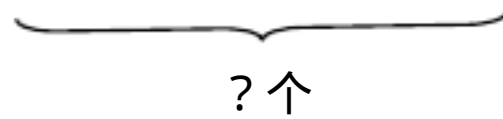
$7+4-5=$      $4+5+6=$      $9-3+7=$      $7-4+8=$

### 二、看图列式。

1、



2、



### 三、在 里填上“>”、“<”或“=”。

$12-5$      $7$      $16-8$      $9$      $15-7$      $11-6$

$7+6$      $11$      $14-9$      $4$      $6+8$      $19-5$

### 四、解决问题。

1、我们要植树 16 棵，已经植了 7 棵。还要再植多少棵？

2、一共有 14 只兔子，白兔有 9 只。灰兔有几只？

3、我有 8 个苹果，你有 6 个苹果，两人一共有多少个苹果？

## 解决问题

### 一、填一填。

1、至少要( )个小正方体才能拼成一个大正方体。

2、由1个十和5个一合起来的数( )，读作( )。

3、( )点整时，时针和分针重合；( )点整时，时针和分针成一条直线。

### 二、直接写出得数。

$11-3=$      $11-4=$      $11-5=$      $13-6=$

$13-7=$      $13-8=$      $15-8=$      $15-9=$

### 三、算一算。

$11-6=$      $12-6=$      $13-5=$      $12-8=$

$11-2=$      $14-5=$      $12-9=$      $19-8=$

$9+7=$      $8+6=$      $4+7=$      $5+6=$

$15-9=$      $16-8=$      $17-9=$      $18-9=$

### 四、两步计算。

$17-8-3=$      $9+4-6=$      $5+4+7=$      $11-6+7=$

$5+9-8=$      $8+7-9=$      $11-3+6=$      $5+7-4=$

### 五、解决问题。

1、一共有18人来踢球，已经来了9人。还有几人没来？

2、停车场有13辆车，开走几辆后，还剩下7辆？

3、我家有12只鸡和4只鸭。公鸡有4只，母鸡有几只？



## 求一个数比另一个数多几或少几

### 一、直接写出得数。

$13-6=$      $8+7=$      $13-5=$      $16-8=$

$15-6=$      $7+9=$      $15-5=$      $14-5=$

$6+6=$      $12-5=$      $14-6=$      $12-9=$

### 二、在 里填上“ $>$ ”、“ $<$ ”或“ $=$ ”。

$13-4$      $4$      $15-7$      $8$      $16-8$      $9$

$12-5$      $7$      $11-6$      $6$      $14-9$      $5$

### 三、看图填空。

1、



有(    )个，有(    )。比少(    )个，比多(    )

个。

2、8比5多(    )；5比8少(    )。

### 四、列式计算。

1、14比7多多少？    2、5比12少多少？

### 五、解决问题。

1、鸡有16只，鸭有9只。

(1) 鸡比鸭多多少只？

(2) 鸭比鸡少多少只？

## 综合作业（1）

### 一、直接写出得数。

$11-2=$     $8+6=$     $16-8=$     $13-4=$

$9+7=$     $13-7=$     $11-6=$     $15-7=$

$14-8=$     $15-9=$     $12-5=$     $11-3=$

$12-4=$     $14-6=$     $17-9=$     $4+8=$

### 二、填一填。

1、长方形有（      ）条边，三角形有（      ）条边。

2、17 里面有（      ）个十和（      ）个一。

3、（      ）点整时，时针和分针在一条直线上。

### 三、两步计算。

$6+4+8=$     $11-3-3=$     $15-7+6=$     $5+4+7=$

$8+7-9=$     $19-5-8=$     $12-4+5=$     $17-2+4=$

### 四、在    里填上“>”、“<”或“=”。

$16-8$     $9$        $14-7$        $6$        $12-6$        $6$

$15-6$     $11-2$     $6+7$        $14-8$        $14-7$        $4+5$

### 五、在    里填“+”或“-”。

$17$     $8=9$     $9$        $4=13$     $12$        $12=0$

$12$     $6=6$     $6$        $7=13$     $13$        $5=18$

### 六、解决问题。

1、我家养了 16 只兔和 8 只羊，羊比兔少多少只？

2、小明家有 14 只鸡，5 只羊，7 只兔。羊和兔一共有几只？

3、食堂的大米吃掉 8 袋，还剩下 9 袋，原来一共有多少袋？

## 综合作业 ( 2 )

### 一、填一填。

1、 $13-8= ( \quad )$

想：10 减 8 等于 (  $\quad$  )，(  $\quad$  ) 加 5 等于 (  $\quad$  )。

2、 $8+( \quad )=12$      $5+( \quad )=14$

$4+( \quad )=11$      $7+( \quad )=13$

### 二、直接写出得数。

$11-9=$                        $15-8=$                        $12-8=$                        $14-8=$

$18-9=$                        $14-10=$                        $16-10=$                        $17-8=$

$11-8=$                        $13-8=$                        $15-9=$                        $18-7=$

$16-9=$                        $12-9=$                        $16-8=$                        $14-8=$

$18-8=$                        $13-9=$                        $14-9=$                        $17-9=$

### 三、在 $\square$ 里填上 “ $<$ ”、“ $>$ ” 或 “ $=$ ”。

$11-8$      $4$      $13-8$      $6$      $15-7$      $9$

$14-9$      $5$      $12-7$      $4$      $5+9$      $13$

### 四、画线计算。

$14-7+5=$                        $12-6+8=$                        $11+4-8=$

$9+5+6=$                        $17-8-7=$                        $13-4+9=$

### 五、解决问题。

1、一本书有 18 页，方方看了 9 几页没看？

2、小华做了 15 朵花，送给幼儿园 8 朵，他还有几朵？

3、要送 13 份礼物，现在剩下 4 份，送了几份？

### 第三单元：分类与整理

一、直接写出得数。

$9+4=$     $5+9=$     $14-9=$     $11-9=$

$8+6=$     $4+8=$     $13-8=$     $15-8=$

$7+4=$     $7+6=$     $16-7=$     $12-7=$

$14+1=$     $15-3=$     $16-6=$     $17-10=$

二、在 里填“ $>$ ”、“ $<$ ”或“ $=$ ”。

$9$     $12-4$     $6+7$     $15$     $5+6$     $15-4$     $17-8$     $5+6$

三、在 里填“ $+$ ”或“ $-$ ”。

$9$     $7=16$     $8$     $5=13$     $12$     $6=6$     $15$     $8=7$

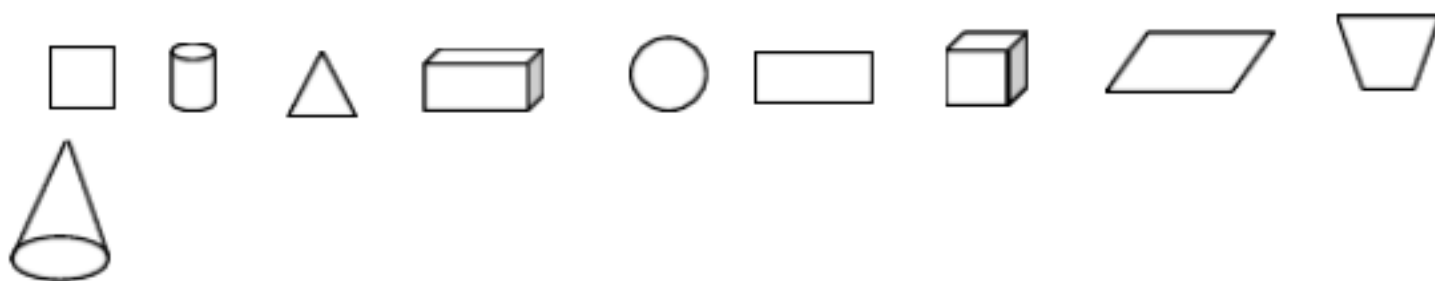
$20$     $0=20$     $7$     $0=7$     $4$     $5=9$     $11$     $6=5$

四、两步计算。

$3+6+7=$     $17-9+8=$     $18-8-5=$     $12+4-8=$

$15-10+9=$     $6+9-7=$     $4+8-2=$     $12-7+7=$

五、给下列图形分类。



平面图形有：

立体图形有：

## 综合作业设计

### 一、填空。

1、数位顺序表上，从右边起，第一位是（        ）位，第二位是（        ）位。

2、正方形有（        ）条边，四条边都（        ）。

3、由 1 个十和 6 个一组成的数是（        ）。

### 二、计算。

$9+6=$        $15-9=$        $5+8=$        $13-8=$

$7+5=$        $14-7=$        $6+5=$        $12-6=$

$5+9=$        $10-5=$        $3+8=$        $11-3=$

$15+2=$        $16-6=$        $19-10=$        $17-4=$

### 三、画线计算。

$2+5+6=$        $14-8+6=$        $19-6-3=$        $5+7-6=$

$15-3+4=$        $11+5-9=$        $16-6+7=$        $17-10+8=$

### 四、在 里填“ > ”、“ < ”或“ = ”。

$7$     $11-4$     $6+8$        $15$     $8+6$        $15-3$     $16-8$        $15-7$

### 五、列式计算。

1、17 比 8 多多少？

2、6 比 14 少多少？

### 六、解决问题。

1、有 17 个圈，我套中了 8 个，还有几个没套中？

2、灰兔有 12 只，白兔有 7 只。白兔灰兔少几只？

3、公鸡有 7 只，母鸡有 11 只。母鸡比公鸡多几只？

## 第四单元：100以内数的认识

### 数数 数的组成

#### 一、直接写出得数。

$4+7=$        $12-5=$        $13+6=$        $17-9=$

$13-8=$        $14-6=$        $15-7=$        $11-4=$

$13-9=$        $18-9=$        $6+6=$        $8+5=$

#### 二、填一填。

1、38是由( )个十和( )个一组成的。

2、100里面有( )个十；2个十是( )。

3、由5个十和6个一组成的数是( )。

4、与79相邻的两个数是( )和( )。

5、由8个一和4个十组成的数是( )。

#### 三、写出下列各数后面的5个数。

1、35,( ),( ),( ),( ),( )。

2、46,( ),( ),( ),( ),( )。

3、88,( ),( ),( ),( ),( )。

#### 四、解决问题。

1、两个小组一共有18人，我们组有9人。我们组有4个女生。另一组有多少人？

2、小林得7朵小红花，小丽得15朵小红花。小丽比小林多多少朵小红花？

读数 写数

一、计算。

$7+5=$        $12-8=$        $6+8=$        $17-8=$

$13-5=$        $9+4=$        $19-9=$        $14-5=$

$16-8=$        $11-9=$        $15-7=$        $5+8=$

二、画线计算。

$4+3+8=$        $13+4-9$        $17-5-8=$        $12-7+6=$

三、填一填。

1、从右边起，第一位是（      ）位，第二位是（      ）位，第三位是（      ）位。

2、一个两位数，十位上是 7，个位上是 2，这个数写作（      ），读作（      ）。

3、80 前面的数是（      ），后面的数是（      ）。

4、22 十位上的“ 2”比个位上的“ 2”多（      ）。

四、按要求写一写。

1、个位上是 3 的数：

2、十位上是 6 的数：

3、个位上和十位上的数字相同的数：

4、从 47 写到 59：

五、解决问题。

1、鸡有 12 只，鸭有 9 只，鹅有 10 只。鸭比鸡多多少只？

2、食堂吃了 12 袋大米，还有 8 袋，原来有多少袋大米？





1.24 , 25 , 26 , (    ) , (    ) , (    ) , (    ) , (    ) , ,

2.5 , 10 , 15 , 20 , (    ) , (    ) , (    ) , (    ) , ,

## 比多少

一、直接写出得数。

$7+6=$     $14-6=$     $13-5=$     $12-9=$

$12-8=$     $19-7=$     $14-6=$     $4+7=$

$11-3=$     $8+9=$     $11-4=$     $15-8=$

二、在 里填“ $>$ ”、“ $<$ ”或“ $=$ ”。

$25 > 24$     $55 < 65$     $100 > 99$     $78 < 87$

$44 < 45$     $68 < 86$     $29 < 31$     $75 > 42$

三、选一选，填一填。

多一些      多得多      少一些      少得多

1、90 比 30 (      )。      2、57 比 60 (      )。

3、100 比 92 (      )。      4、45 比 95 (      )。

5、红花有 32 朵，黄花有 35 朵，紫花有 90 朵。红花比黄 (      )，

紫花比红花 (      )。

四、解决问题。

1、有 50 个学生，2 位老师。每人一瓶水，48 瓶够吗？一共人多少瓶水？

2、小月和小军一共折了 16 只纸船，其中黄色的有 6 只。小月折了 9 只。

小军折了多少只？

## 解决问题

### 一、直接写出得数。

$8+8=$     $17-5=$     $10+6=$     $12-3=$

$13-3=$     $12+4=$     $13-10=$     $15-6=$

$6+9=$     $14-9=$     $15-8=$     $8+7=$

### 二、画线计算。

$4+4+8=$     $16-7+5=$     $11+5-6=$     $17-5-4=$

$19-9+4=$     $18-6-7=$     $16-8+8=$     $12+5-5=$

### 三、比一比，排一排。

#### 1、按从大到小的顺序排列。

15   37   70   44   24   82

(     ) > (     ) > (     ) > (     ) > (     ) > (     ) > (     )

#### 2、按从小到大的顺序排列。

67   36   63   54   29   45

(     ) < (     ) < (     ) < (     ) < (     ) < (     ) < (     )

### 四、填一填。

1、我加上 10 是 15。我是 (     )。

2、我减去 4 是 9。我是 (     )。

3、我比最大的一位数多 7。我是 (     )。

### 五、解决问题。

1、一本书 14 元，一枝笔 6 元。书比笔贵多少元？

2、大猴 16 只，小猴 9 只。大猴比小猴多几只？

## 整十数加一位数

一、直接写出得数。

$11-6=$      $17-9=$      $16-10=$      $18-6=$

$10+8=$      $9+4=$      $12-5=$      $14-7=$

$14-4=$      $11-2=$      $7+6=$      $12-8=$

二、算一算，有什么发现。

$60+5=$                  $65-60=$                  $65-5=$                  $50+7=$

$57-50=$                  $57-7=$                  $8+30=$                  $38-30=$

三、在 里填数。

$48=40+$                  $73=$                  $+3$      $96=90+$

$82-$      $=2$                  $76-$                  $=70$      $67-$                  $=7$

四、看谁算得又对又快。

$30+5=$      $48-8=$      $92-2=$      $5+70=$

$67-7=$      $40+4=$      $84-80=$      $63-60=$

$8+20=$      $79-9=$      $5+40=$      $37-7=$

五、解决问题。

1、白菜有 8 棵，青菜有 15 棵。青菜比白菜多多少棵？

2、小月家有 16 只鸡，9 只鸭，5 只鹅。

(1) 鸭比鸡少多少只？

(2) 鸡比鹅多多少只？

摆一摆 想一想

一、填一填。

- 1、与 30 相邻的数是 ( ) 和 ( )。
- 2、一个两位数，十位上是 5，个位上是 7，这个数是( )，读作( )。
- 3、最小的两位数是 ( )，最大的两位数是 ( )。
- 4、78 由 ( ) 个十和 ( ) 个一组成。

二、直接写出得数。

$30+6=$     $78-70=$     $9+4=$     $12-7=$

$84-4=$     $16-9=$     $68-8=$     $70+9=$

$5+40=$     $85-80=$     $13-4=$     $14-8=$

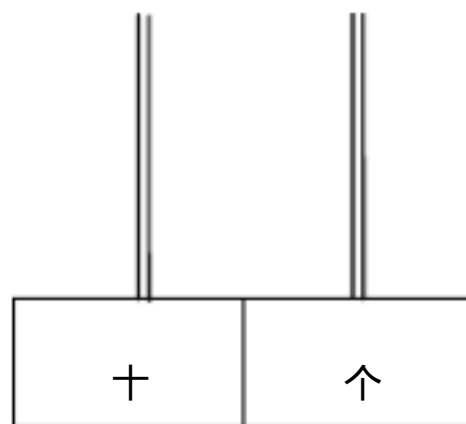
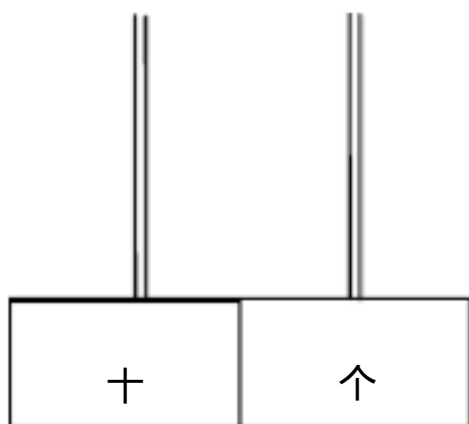
三、在 里填“>”、“<”或“=”。

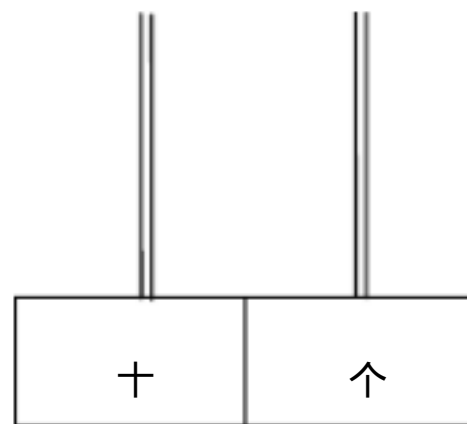
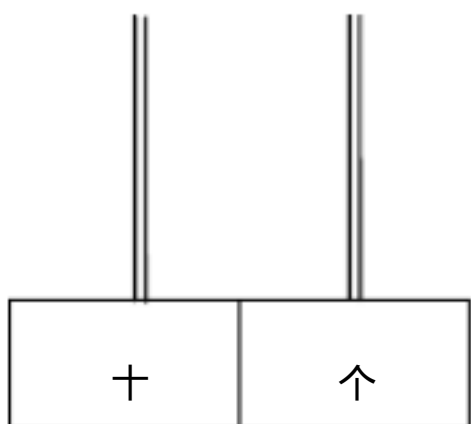
$63-60$     $4$     $86-80$     $5$     $30+8$     $38$

$40+7$     $74$     $28-8$     $20$     $6+50$     $54$

四、摆一摆，画一画，填一填。

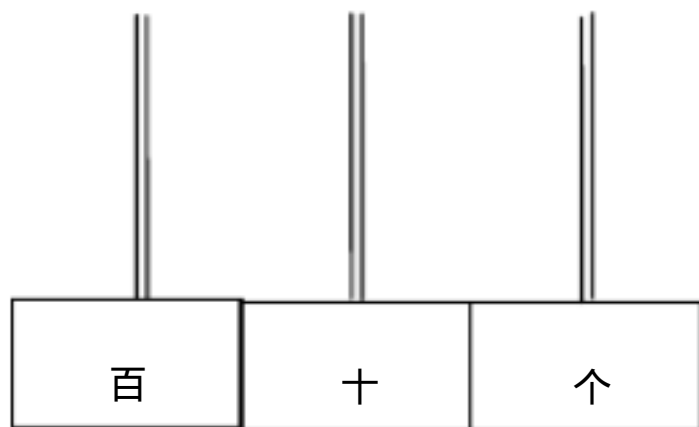
- 1、用 3 棵珠子摆。





用 3 颗珠子摆出的数有 (      ) (      ) (      ) (      ), 其中最大的是 (      ), 最小的是 (      )。

2、用 1 颗珠子摆。



用 1 颗珠子摆的数有 (      ) (      ) (      ), 最大的数比最小的数多 (      )。

## 第四单元整理作业

### 一、填一填。

- 1、由 7 个十和 5 个一组成的数是 (      ), 读作 (      )。
- 2、10 个 10 是 (      ), 20 里面有 (      ) 个十。
- 3、60 前面的一个数是 (      ), 后面一个数是 (      )。
- 4、37 由 (      ) 个十和 (      ) 个一组成。
- 5、一个两位数, 个位上是 2, 十位上是 6, 这个两位数是 (      )。

### 二、计算。

$12-8=$     $84-4=$     $20+9=$     $68-8=$

$40+3=$     $5+60=$     $67-60=$     $15-7=$

$11-3=$     $30+8=$     $17-8=$     $6+8=$

### 三、在 里填“ $>$ ”、“ $<$ ”或“ $=$ ”。

$25$     $24$     $55$     $65$     $100$     $99$     $78$     $87$

$44$     $33$     $68$     $86$     $60+6$     $29$     $24$     $20+4$

$56$     $50+4$     $86-80$     $7$     $55-5$     $50$     $43$     $34$

### 四、按规律写数。

1、27, 28, 29, (      ), (      ), (      ), (      )。

2、10, 20, 30, (      ), (      ), (      ), (      )。

3、11, 22, 33, (      ), (      ), (      ), (      )。

4、42, 40, 38, (      ), (      ), (      ), (      )。

### 五、解决问题。

- 1、超市运进 48 箱酸奶, 卖出去 8 箱, 还剩多少箱?



2、我家有 14 只鸡和 6 只鸭，公鸡有 7 只，母鸡有多少只？

## 第五单元 认识人民币

### 认识人民币（1）

#### 一、填一填。

- 1、人民币的单位有（ ）（ ）（ ）。
- 2、单位是元的人民币分别有 1 元、（ ）元、（ ）元、（ ） 20 元、（ ）元、（ ）元。
- 3、单位是角的人民币分别有（ ）角、（ ）角、（ ）角。
- 4、最大面值的人民币是（ ），最小面值的人民币是（ ）。
- 5、1 元 = （ ）角，1 角 = （ ）分。

#### 二、直接写出得数。

$40+7=$     $13-7=$     $7+6=$     $58-50=$

$12-6=$     $16-8=$     $15-7=$     $14-9=$

$9+5=$     $8+4=$     $7+60=$     $65-5=$

#### 三、填“元”“角”“分”。

- 1、一块橡皮的价格是 8（ ）。
- 2、一本《新华字典》的价格是 9（ ）。
- 3、一个书包的价格是 85（ ）。
- 4、一本“练习本”的价格是 5（ ）。
- 5、一本“数学课本”的价格是 4（ ）5（ ）。

#### 四、解决问题。

- 1、食堂吃了 8 袋大米，还剩 9 袋。原来一共有多少袋？
- 2、鸡有 15 只，鸭有 9 只。鸭比鸡少多少只？

## 认识人民币（2）

### 一、填一填。

1、12比7多（ ）；5比8少（ ）。

2、5元一张的人民币，可以换（ ）张1元的。

3、50元一张的人民币，可以换（ ）张5元的。

### 二、直接写出得数。

$11-3=$     $64-60=$     $8+9=$     $74-4=$

$47-7=$     $12-5=$     $13-8=$     $30+6=$

$8+30=$     $80+4=$     $14-9=$     $17-8=$

### 三、在 里填“>”、“<”或“=”。

5角 5分    2角 20分    5元 70角

3元 30角    1元 100分    40角 3元

### 四、填一填。

1元=（ ）角    40角=（ ）元

1元2角=（ ）角    24角=（ ）元（ ）角

76角=（ ）元（ ）角

45.00元=（ ）元    4.50元=（ ）元（ ）角

4.05元=（ ）元（ ）分

### 五、解决问题。

1、小林家养了 15 只兔和 9 只羊。

（1）兔比羊多几只？

（2）羊比兔少几只？

2、小明家有 14 只鸡和 5 只鸭。公鸡有 6 只，母鸡有几只？

## 简单的计算 ( 1 )

### 一、直接写出得数。

$12-8=$     $6+8=$     $18-9=$     $14-10=$

$7+9=$     $73-70=$     $50+7=$     $7+5=$

$11-7=$     $40+9=$     $14+5=$     $16-6=$

### 二、填一填。

$6 \text{ 元} = ( \quad ) \text{ 角}$     $80 \quad \text{角} = ( \quad ) \text{ 元}$

$4 \text{ 元 } 6 \text{ 角} = ( \quad ) \text{ 角}$     $48 \quad \text{角} = ( \quad ) \text{ 元} ( \quad ) \text{ 角}$

$7 \text{ 元 } 9 \text{ 角} = ( \quad ) \text{ 角}$     $6.48 \quad \text{元} = ( \quad ) \text{ 元} ( \quad ) \text{ 角} ( \quad ) \text{ 分}$

$64.80 \text{ 元} = ( \quad ) \text{ 元} ( \quad ) \text{ 角}$

$0.76 \text{ 元} = ( \quad ) \text{ 角} ( \quad ) \text{ 分}$

### 三、在 里填“ >”、“ <” 或“ =”。

$5 \text{ 角}$     $5 \text{ 元}$     $6 \quad \text{元}$     $5 \text{ 元 } 9 \text{ 角}$     $9 \quad \text{元 } 9 \text{ 角}$     $9 \text{ 角 } 9 \text{ 分}$

$70 \text{ 分}$     $7 \text{ 元}$     $1 \quad \text{元}$     $100 \text{ 分}$     $1 \quad \text{元 } 8 \text{ 角}$     $18 \text{ 角}$

### 四、排列。

#### 1、按钱数从多到少的顺序排列。

$2 \text{ 角}$     $5 \text{ 元}$     $9 \text{ 角}$     $1 \text{ 分}$     $2 \text{ 元}$     $50 \text{ 分}$     $20 \text{ 元}$

#### 2、按钱数从少到多的顺序排列。

$10 \text{ 元}$     $9.75 \quad \text{元}$     $9.57 \quad \text{元}$     $7.97 \quad \text{元}$     $5.79 \quad \text{元}$     $7.59 \quad \text{元}$

### 五、解决问题。

1、一架玩具飞机 8 元，用 10 元钱买一架飞机应找回多少钱？

2、小丽有 12 朵花，小林有 9 朵花。小林比小丽少几朵花？

## 简单的计算（2）

一、直接写出得数。

$60+4=$      $14-5=$      $32-2=$      $76-6=$

$12-8=$      $78-70=$      $5+80=$      $13-4=$

$9+6=$      $16-9=$      $13-7=$      $90+7=$

二、算一算。

$1\text{元}-4\text{角}=(\quad)\text{角}$      $7\text{角}+8\text{角}=(\quad)\text{元}(\quad)\text{角}$

$14\text{元}-6\text{元}=(\quad)\text{元}$      $7\text{元}+8\text{角}=(\quad)\text{角}$

$8\text{分}+8\text{分}=(\quad)\text{角}(\quad)\text{分}$

$8\text{元}4\text{角}-8\text{元}=(\quad)\text{角}$      $1\text{元}3\text{角}+7\text{角}=(\quad)\text{元}$

三、计算。

$8\text{元}7\text{角}-1\text{元}3\text{角}=(\quad)\text{元}(\quad)\text{角}$

$5\text{元}2\text{角}+4\text{元}8\text{角}=(\quad)\text{元}$

$9\text{角}-2\text{角}=(\quad)\text{角}$      $7\text{角}+6\text{角}=(\quad)\text{元}(\quad)\text{角}$

$4\text{元}+8\text{元}=(\quad)\text{元}$      $5\text{角}+1\text{元}3\text{角}=(\quad)\text{元}(\quad)\text{角}$

四、在 里填“>”、“<”或“=”。

$5\text{角}$      $5\text{元}$      $5$      $\text{元}6\text{角}$      $6\text{元}5\text{角}$

$89\text{角}$      $8\text{元}9\text{角}$      $10$      $\text{元}1\text{角}$      $10\text{元}1\text{分}$

$3\text{元}$      $2\text{元}9\text{角}$      $3$      $\text{角}4\text{分}$      $3\text{元}4\text{角}$

五、解决问题。

1、我有 5 元钱，买一个 3 元 7 角的文具盒，应找回多少钱？

2、我拿 10 元钱去买一盒 6 元 4 角的彩笔。还剩多少钱？

## 第五单元整理作业

一、直接写出得数。

$40+5=$      $14-7=$      $18-9=$      $38-30$

$13-8=$      $8+9=$      $27-20=$      $40+8=$

$7+60=$      $64-60=$      $16-7=$      $15-7=$

二、算一算。

$1\text{元}-2\text{角} =$          $7$          $\text{角}+6\text{角} =$

$6\text{元}3\text{角}-6\text{元} =$          $6$          $\text{元}3\text{角}-3\text{角} =$

$8\text{元}2\text{角}+5\text{角} =$          $8$          $\text{元}2\text{角}+5\text{元} =$

$1\text{元}4\text{角}+3\text{元}3\text{角}$          $9$          $\text{元}7\text{角}-2\text{元}4\text{角} =$

三、填一填。

$3\text{角} = ( \quad )\text{角}$          $40$          $\text{角} = ( \quad )\text{元}$

$2\text{元}6\text{角} = ( \quad )\text{角}$          $5$          $\text{元}8\text{角} = ( \quad )\text{角}$

$67\text{角} = ( \quad )\text{元} ( \quad )\text{角}$      $73$      $\text{角} = ( \quad )\text{元} ( \quad )\text{角}$

$10.40\text{元} = ( \quad )\text{元} ( \quad )\text{角}$

$3.06\text{元} = ( \quad )\text{角} ( \quad )\text{分}$

四、换一换。

1、一张 1 元可以换 (        ) 张 1 角。

2、一张 1 元可以换 (        ) 张 5 角。

3、一张 50 元可以换 (        ) 张 10 角。

五、在 里填“ > ”、“ < ”或“ = ”。

$5\text{角}+8\text{角}$      $1\text{元}$          $5$          $\text{元}6\text{角}$      $5\text{元}6\text{分}$

10-2 元 7 角 8 元 3 角 2 元 7 角+3 元 3 角 6 元

7 元 4 角 7 角 4 分 3 角 4 分 3 元 4 角

六、解决问题。

1、买一盒奶油饼干 5 元 3 角，买一袋脆脆肠 4 元。一共用了多少钱？

2、一袋饼干 12 元，一瓶香油 9 元。香油比饼干便宜多少元？

## 第六单元 100 以内的加法和减法（一）

### 整十数加、减整十数（1）

一、直接写出得数。

$4+9=$   $12-6=$   $6+8=$   $13-7=$

$12-2=$   $15-10=$   $16+2=$   $17-6=$

$6+5=$   $16-7=$   $11-5=$   $7+7=$

二、比一比，算一算。

$5+2=$   $50+20=$   $9+1=$   $90+10=$

$6-3=$   $60-30=$   $8-2=$   $80-20=$

三、填空。

1、10、20、30、（ ）（ ）（ ）（ ）80、（ ）。

2、被减数是 50，减数是 20，差是（ ）。

3、两个加数都是 20，和是（ ）。

4、由 8 个十和 8 个一合起来的数是（ ）。

5、96 里面有（ ）个十和（ ）个一。

四、算一算。

$10+40=$   $20+70=$   $60-50=$   $70-30=$

$40-20=$   $40+20=$   $20+60=$   $30+50=$

$10+90=$   $60-10=$   $90-40=$   $40+60=$

五、在 里填“>”、“<”或“=”。

$10+10$   $19$   $30-20$   $1$   $60+30$   $50+40$

$61$   $40+30$   $100$   $30+70$   $90-30$   $20+50$



六、解决问题。

一件雨衣 20 元

一把雨伞 30 元

1、买一件雨衣和一把雨伞一共要花多少钱？

2、一件雨衣比一把雨伞便宜多少钱？



## 两位数加一位数和整十数（不进位）

### 一、填一填。

- 1、86 读作（ ）；二十七写作（ ）。
- 2、80 里面有（ ）个十。
- 3、79 里面有（ ）个十和（ ）个一。
- 4、由 5 个十和 5 个一合起来的数是（ ），读作（ ）。
- 5、90 前面的数是（ ），后面的数是（ ）。

### 二、比一比，算一算。

$$3+4= \quad 53+4= \quad 50+20= \quad 53+20=$$

$$2+7= \quad 62+7= \quad 70+20= \quad 70+23=$$

$$5+1= \quad 45+1= \quad 40+30= \quad 45+30=$$

$$6+2= \quad 86+2= \quad 10+60= \quad 10+63=$$

### 三、在 里填“>”、“<”或“=”。

$$34+2 \quad 54 \quad 40+9 \quad 94 \quad 83+10 \quad 13+80$$

$$60+39 \quad 99 \quad 12+5 \quad 20 \quad 20+12 \quad 20+21$$

### 四、在括号里填上合适的数。

$$12+( \quad )=19 \quad 36+( \quad )=66 \quad 25=25+( \quad )$$

$$57=52+( \quad ) \quad 70=( \quad )+20 \quad 84+( \quad )=89$$

### 五、解决问题。

- 1、小明有 50 张邮票，小青有 36 张邮票，两人一共有多少张？
- 2、一本书，小华已经看了 15 页，还剩 4 页没看，这本书有多少页？
- 3、超市有 38 袋食盐，又新进 60 袋。现在有多少袋食盐？

## 两位数加一位数和整十数（进位加）

### 一、填一填。

1、67 里面有（ ）个十和（ ）个一；由 1 个十和 5 个一组成的数是（ ）。

2、86 读作（ ）；90 读作（ ）。九十三写作（ ）；八十写作（ ）。

### 二、比一比，算一算。

$$6+8= \quad 46+8= \quad 5+9= \quad 5+39=$$

$$4+6= \quad 74+6= \quad 7+8= \quad 67+8=$$

### 三、直接写出得数。

$$53+8= \quad 7+67= \quad 3+39= \quad 6+35=$$

$$15+6= \quad 63+7= \quad 22+9= \quad 76+6=$$

$$3+38= \quad 4+47= \quad 5+69= \quad 3+26=$$

### 四、在 里填“>”、“<”或“=”。

$$73+8 \quad 80 \quad 62 \quad 50+12 \quad 2+78 \quad 80$$

$$24+6 \quad 25 \quad 80 \quad 75+8 \quad 7+45 \quad 42$$

### 五、在（ ）里填数。

$$60+（ ）=65 \quad 8+（ ）=78 \quad 9+（ ）=14$$

$$（ ）+9=69 \quad （ ）+40=48 \quad （ ）+6=13$$

### 六、解决问题。

1、小红看一本书，第一天看了 12 页，第二天看了 9 页。两天一共看了多少页？

2、书架上有 94 本书，再放上 6 本就放满了。这个书架上可以放多少本书？

3、我已经拔了 35 个萝卜，还剩 6 个没有拔。小白兔一共种了多少个萝卜？

## 两位数加一位数和整十数（综合 1）

### 一、填一填。

1、一个数，由 9 个十和 9 个一组成的，这个数是（      ），读作（      ）。

2、66 里面有（    ）十和（    ）个一。

3、99 前面的数是（      ），后面的数是（      ）。

4、和 69 相邻的两个数是（      ）和（      ）。

### 二、计算。

$$66+4= \quad 2+19= \quad 37+30= \quad 4+55=$$

$$6+77= \quad 69+9= \quad 7+14= \quad 88+8=$$

### 三、画线计算。

$$55+5+40= \quad 36+50+3= \quad 35+7+30= \quad 9+23+40=$$

$$24+50+6= \quad 65+20+5= \quad 27+9+9= \quad 2+18+27=$$

$$7+30+6= \quad 4+9+60= \quad 6+7-5= \quad 14-7+8=$$

### 四、列式计算。

1、12 比 7 多多少？      2      、6 比 13 少多少？

### 五、解决问题。

1、一班有 27 个男生和 20 个女生。一共有多少个学生？

2、停车场开走了 7 辆车，还剩 16 辆，停车场原来有多少辆车？

3、小丽做了 30 朵小红花，小华做的和小丽做的同样多。他们的一共做了多少朵小红花？

## 两位数加一位数和整十数 (综合 2)

一、填一填。

1、5 连续加 5，写出每次加得的和。

5，( ) ( ) ( ) ( ) ( ) ( ) ( )。

2、7 连续加 7，写出每次加得的和。

7，( ) ( ) ( ) ( ) ( ) ( ) ( )。

二、比一比，算一算。

$$7+6= \quad 27+6= \quad 9+5= \quad 39+5=$$

$$6+4= \quad 6+54= \quad 8+9= \quad 8+79=$$

$$13+7= \quad 13+70= \quad 25+6= \quad 25+60=$$

$$48+4= \quad 48+40= \quad 79+2= \quad 79+20=$$

一、计算。

$$64+30= \quad 86+2= \quad 93+4= \quad 20+67=$$

$$5+31= \quad 45+30= \quad 5+26= \quad 50+26=$$

$$80+9= \quad 59+8= \quad 3+86= \quad 5+47=$$

三、在 里填“>”、“<”或“=”。

$$26+9 \quad 36 \quad 34+7 \quad 40 \quad 86 \quad 76+8$$

$$49+5 \quad 54 \quad 88+6 \quad 83 \quad 61 \quad 53+9$$

五、画线计算。

$$24+30+5= \quad 7+53+10= \quad 46-6+40= \quad 26+3+8=$$

$$34+8+50= \quad 73+20-3= \quad 60+30-20= \quad 24-4+40=$$

六、解决问题。

1、我们有 20 个女生，有 23 个男生。一共有多少个学生？

2、回收箱里有 56 节旧电池，我又放进 9 节。回收箱里现在有多少节电池？

3、灰兔和白兔一共有 90 只，灰兔有 50 只。白兔有多少只？



## 两位数减一位数和整十数（不退位）

### 一、填一填。

1、由 5 个十和 7 个一组成的数是（     ），读作（     ）。

2、98 是由（     ）个十和（     ）个一合起来的。

3、从 29 写到 35（     ）。

### 二、比一比，算一算。

$$9-6= \quad 99-6= \quad 70-50= \quad 75-50=$$

$$8-4= \quad 28-4= \quad 60-20= \quad 64-20=$$

$$7-5= \quad 57-5= \quad 60-20= \quad 64-20=$$

$$6-2= \quad 46-2= \quad 50-20= \quad 58-20=$$

### 三、计算。

$$64+20= \quad 76+2= \quad 83+4= \quad 30+67=$$

$$6+31= \quad 45+40= \quad 6+26= \quad 40+26=$$

$$49-3= \quad 49-30= \quad 43+7= \quad 7+60=$$

### 四、在 里填“>”、“<”或“=”。

$$29 \quad 36 \quad 34+7 \quad 40 \quad 87 \quad 76+9$$

$$45 \quad 54 \quad 88+6 \quad 83 \quad 61 \quad 53+9$$

### 五、在（     ）括号里填数。

$$60+ \quad ( \quad ) = 67 \quad 5+ \quad ( \quad ) = 55 \quad 65- \quad ( \quad ) = 60$$

$$78- \quad ( \quad ) = 75 \quad 67- \quad ( \quad ) = 17 \quad 66+ \quad ( \quad ) = 72$$

### 六、解决问题。

1、筐里原来有 36 个胡萝卜，我吃了 5 个。现在还剩下多少个？

2、一双鞋子 99 元，我有 50 元钱。要买这双鞋还差多少元？

3、我前面有 7 人，后面有 5 人。我们这一排一共有多少人？

两位数减一位数和整十数（退位减）

一、比一比，算一算。

$12-5=$     $32-5$     $16-9=$     $56-9=$

$17-8=$     $37-8=$     $13-5=$     $43-5=$

二、计算。

$23-7=$     $78-9=$     $44-8=$     $35-6=$

$91-9=$     $63-3=$     $26-7=$     $55-8=$

$42-5=$     $26-7=$     $52-8=$     $73-4=$

三、在里填“>”、“<”或“=”。

$37+8$     $55$     $27-6$     $20$     $26$     $40-5$

$56-8$     $53$     $43-10$     $30$     $38$     $40-8$

四、在（    ）里写出每次减得的差。

1、80连续减8：

$80 \xrightarrow{72} \longrightarrow ( ) \longrightarrow ( ) \longrightarrow ( ) \longrightarrow ( ) \longrightarrow ( )$   
 $\longrightarrow ( )。$

2、60连续减6：

$60 \xrightarrow{54} \longrightarrow ( ) \longrightarrow ( ) \longrightarrow ( ) \longrightarrow ( ) \longrightarrow ( )。$

五、解决问题。

1、今天要练 30 个大字，已经练了 8 个。还要练几个大字？

2、妈妈今年 35 岁，我 7 岁。妈妈比我大几岁？

3、学校组织一年级的小朋友参观自然博物馆，共有 56 人，中午就餐时每 10 人一桌，最少需要几张桌子？

两位数减一位数和整十数（综合 1）

一、口算。

$57+3=$      $92-20=$      $87-8=$      $42-8=$

$43-7=$      $56+9=$      $32+9=$      $54-30=$

$30-9=$      $56-7=$      $46-5=$      $99-90=$

二、算一算。

$64-20=$      $39-11$      $16+3=$      $36-9=$

$37-10=$      $32-4=$      $52-8=$      $22-3=$

$57-3=$      $63-20=$      $92-7=$      $92-70=$

三、在括号里填上适当的数。

$27 - ( ) = 22$      $32 - ( ) = 26$      $50 - ( ) = 45$

$78 - ( ) = 76$      $91 - ( ) = 83$      $( ) - 6 = 66$

四、按顺序填数。

	60	61	
--	----	----	--

70	75		85	
----	----	--	----	--

96	86	76			46				
----	----	----	--	--	----	--	--	--	--

五、解决问题。

1、 地里有 38 个萝卜，小兔拔了 9 个，还剩多少个萝卜？

2、 小朋友们要做 48 朵花，已经做好了 10 朵，还要做几朵？

3、 合唱队有 30 个同学，男生只有 8 人。女生有多少人？

## 两位数减一位数和整十数（综合 2）

### 一、算一算。

$63-20=$      $37-4=$      $59-30=$      $84-4=$

$46-3=$      $72-50=$      $28-7=$      $96-60=$

$60+7=$      $73+4=$      $48+4=$      $48+40=$

### 二、计算。

$10-6=$      $14-7=$      $15-9=$      $13-8=$

$50-6=$      $34-7=$      $85-9=$      $63-8=$

$76-6=$      $60-3=$      $92-7=$      $53-4=$

$94-60=$      $60-30=$      $92-70=$      $53-40=$

### 三、在 里填“>”、“<”或“=”。

$39-4$      $36$      $68-40$      $28$      $76-8$      $67$

$87-30$      $49$      $94-7$      $88$      $53-9$      $45$

### 四、按要求填一填。

1、70 连续减 7，写出每次减得的差。

70、( 63 ) (    ) (    ) (    ) (    ) (    ) (    ) (    ) (    )。

2、90 连续减 9，写出每次减得的差。

90、( 81 ) (    ) (    ) (    ) (    ) (    ) (    ) (    ) (    )。

### 五、解决问题。

1、小英用 50 元钱，买了一个 8 元的文具盒。应找回多少钱？

2、鸡有 87 只，鸭有 90 只，鹅有 80 只。鹅比鸡少多少只？

## 小括号的用法

一、填一填。


1、元角分：

$$1 \text{ 元} - 4 \text{ 角} = ( \quad ) \text{ 角} \quad 7 \text{ 角} + 8 \text{ 角} = ( \quad ) \text{ 元} ( \quad ) \text{ 角}$$

$$14 \text{ 元} - 6 \text{ 元} = ( \quad ) \text{ 元} \quad 7 \text{ 元} + 8 \text{ 角} = ( \quad ) \text{ 角}$$

2、由 4 个一和 3 个十组成的数是 (  $\quad$  ), 读作 (  $\quad$  )。

3、看图写算式。



$$9 - \quad - \quad = \quad \text{或} \quad 9 - ( \quad + \quad ) = \quad$$

二、算一算，比一比。

$$7+5+3= \quad 7+(5+3)= \quad 14-7+2= \quad 14-(7+2)=$$

$$18-8-4= \quad 18-(8-4)= \quad 43-3+27= \quad 43-(3+27)=$$

$$63-30+5= \quad 44+9-20= \quad 40+(15-8)= \quad 75-(10+50)=$$

三、在 里填“ $>$ ”、“ $<$ ”或“ $=$ ”。

$$45+3 \quad 45+5 \quad 72-10 \quad 72-9 \quad 86-6 \quad 75$$

$$48-20 \quad 58-20 \quad 27+8 \quad 28+7 \quad 35+8 \quad 42$$

$$26+30 \quad 63-7 \quad 96-70 \quad 6+70 \quad 20+62 \quad 62+8$$

四、解决问题。

1、小红做了 36 道题，小云做了 20 道题。小云还要做多少道才能和小红同样多？

2、我前面有 8 人，后面有 12 人。我们这排一共有多少人？

3、共有 72 人检查视力，已经检查了 40 人，其中有 6 人近视。还有多少人没有检查？

4、超市运进 45 箱苹果。上午卖出 5 箱，下午卖出 3 箱。超市还有多少箱苹果？



## 解决问题

### 一、填空。

1、有一个两位数，十位上的数是最大的一位数，个位上的数是 5，这个数是 (      )，读作 (      )。

2、66 是 (      ) 位数，(      ) 位上的 6 表示 6 个十。

3、100 个一是 (      )，它里面有 (      ) 个十。

### 二、计算。

$$54-5+30= \quad 76-6-8= \quad 87-9-10= \quad 43- \quad (3+27) =$$

$$39-9 \quad (9-5) = \quad 90- \quad (16+4) = \quad 8+(4+7)= \quad 47+(18-9)=$$

### 三、在 里填“>”、“<”或“=”。

$$73+5 \quad 37+5 \quad 48-7 \quad 48-9 \quad 56-20 \quad 56-2$$

$$72+8 \quad 8+72 \quad 36-4 \quad 36-5 \quad 57+3 \quad 3+57$$

### 四、解决问题。

1、有 3 盒酸奶，每盒 10 瓶。一共有多少瓶？

2、有 3 盒蛋糕，每盒切成 8 块。25 个小朋友每人分一块。够吗？

3、水果店运来苹果 34 千克，梨 5 千克，香蕉 20 千克。

(1) 苹果比梨多多少千克？

(2) 梨比香蕉少多少千克？

(3) 一共运来水果多少千克？

## 整理和复习(1)

### 一、填一填。

1、最大的两位数是( ),最小的两位数是( ),它们相差( )。

2、45 里面有( )个十和( )个一。

3、一个数的个位上是 3,十位上是 9,这个数是( ),读作( )。

### 二、计算。

$$50-8= \quad 97+3= \quad 23+60= \quad 52-7=$$

$$60+8= \quad 50+40= \quad 67-40= \quad 38-8=$$

$$54-3= \quad 95-50= \quad 65+5= \quad 87+7=$$

### 三、两步计算。

$$47+4-20= \quad 61+20-9= \quad 73+7-18= \quad 3+26+9=$$

$$90-8-20= \quad 48+ \quad (18-9) = \quad 17+ \quad (54-4) = \quad 73- \quad (13+7) =$$

### 四、在 里填“>”、“<”或“=”。

$$58-5 \quad 58-50 \quad 26+30 \quad 63-7 \quad 96-7 \quad 6+70$$

$$20+62 \quad 62+8 \quad 56-20 \quad 56-2 \quad 73+8 \quad 8+73$$

### 五、解决问题。

1、爸爸买了 3 袋苹果,每袋 8 个,一共买了多少苹果?

2、有 28 个橘子,9 个装一袋,可以装满几袋?

3、今天是学校开放日,要来 48 位家长,已经放了 30 把椅子。还缺多少把椅子?



$$= ( \quad )$$

(2) 鸡比鸭多多少只？

$$= ( \quad )$$

(3) 一共有多少只家禽？

$$= ( \quad )$$

第六单元 综合作业设计

一、我会填。

- 1、一个加数是 50，另一个加数是 8，和是（ ）。
- 2、被减数是 89，减数是 70。差是（ ）。
- 3、6 比 50 小（ ）；88 比 7 大（ ）。
- 4、45 与 8 的和是（ ），差是（ ）。
- 5、从 28 写到 31（ ）。

二、判断。（对的打“ ”，错的打“ ”）

- 1、80 比 7 磊 87。（ ）
- 2、50 比 96 小 46。（ ）

三、计算。

$$\begin{array}{cccc} 31-4= & 8+26= & 30+36= & 81-6= \\ 20+60= & 92-1= & 25+8= & 97-60= \\ 50+16= & 82-5= & 58-20= & 39+40= \end{array}$$

四、画线计算。

$$\begin{array}{ccccccc} 36+40+2= & 59-9-20= & 63-30+5= & 30+ & & & (11-4) = \\ 47+ (18-9) = & 75-(10+50)= & 94- & & & & (69-60) = & 32+40-6= \end{array}$$

五、解决问题。

- 1、图书室一共有 96 本书，其中故事书有 30 本。上周借出 4 本书，图书室还剩多少本书？
- 2、一根绳子剪去 8 米后还剩 24 米，这根绳子原来有多长？
- 3、跳绳比赛，小清跳 50 下，兰兰跳 56 下。兰兰比小清多跳了几下？

第七单元 找规律

一、填一填。

- 1、最大的两位数与最大的一位数相差 ( ) 。
- 2、8 连续加 8，和分别是 16、24、( ) ( ) ( ) ( )。
- 3、80 连续减 9，差分别是 71、62、( ) ( ) ( ) ( )。

二、计算。

$76-4=$        $93-30=$        $56+9=$        $34+20=$   
 $60+(14-7)=$        $83-20+5=$        $58-(26+4)=$        $28+20+6=$   
 $37-4+5=$        $38-(30+8)=$        $50+17-7=$        $67-8-50=$

三、找规律填数。

- 1、1, 7, 1, 7, ( ), ( ), ( ), ,
- 2、1, 3, 5, 7, ( ), ( ), ( ), ,
- 3、0, 5, 10, 15, 20, ( ), ( ), ( ), ,
- 4、60, 59, 58, 57, 56, ( ), ( ), ( ), ,
- 5、20, 18, 16, ( ), ( ), ( ), ,
- 6、1, 11, 21, 31, ( ), ( ), ( ), ,
- 7、8, 12, 16, ( ), ( ), 28, ( ), ,
- 8、6, 6, 6, 7, 7, 7, ( ), ( ), ( ), 9, ,

四、认真想，找规律填一填。

- 1、8, 3, 9, 4, 10, 5, ( ), ( )
- 2、1, 1, 2, 3, 5, 8, ( ), ( )。

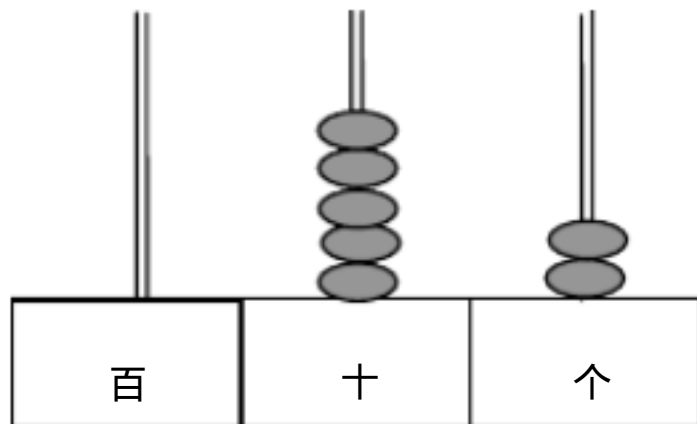
五、解决问题。

1、有 24 箱苹果。我每次运 8 箱。需要几次才能把苹果运完？

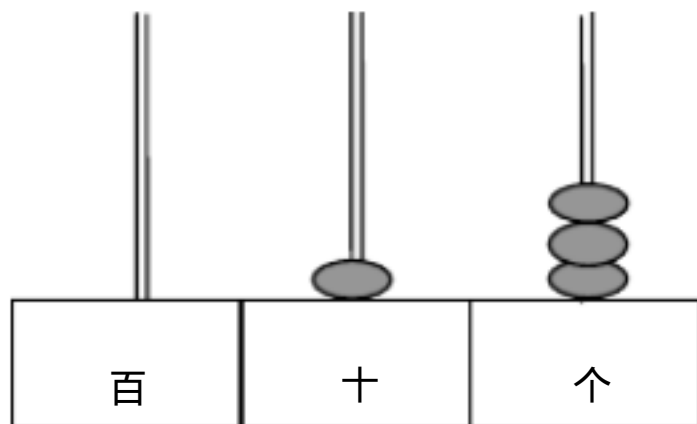
2、小亮擦了 12 张课桌，佳佳擦了 6 块玻璃，还擦了 9 张课桌。他们一共擦了多少张课桌？

100 以内的数及加减法 (复习 1)

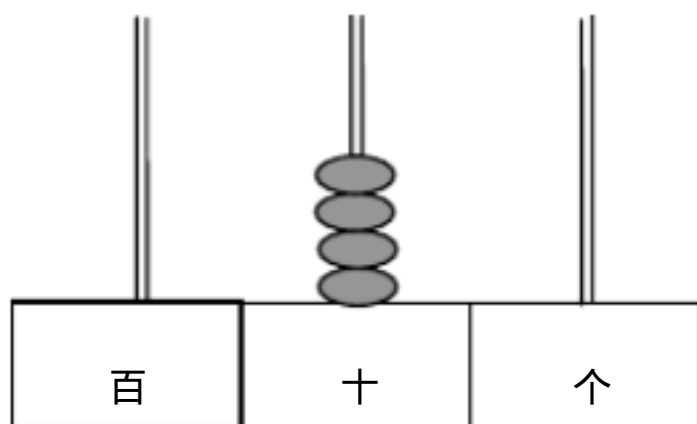
一、写一写，读一读。



写作：( ) 读作：( )



写作：( ) 读作：( )



写作：( ) 读作：( )

二、填一填。

- 1、在数位顺序表中，从 ( ) 边起第一位是个位，第二位是 ( ) 位，第三位是 ( ) 位。



2、读数和写数都从( )位起。

3、五十八写作( ),它的最高位上是( ),表示( )个( ),  
个位上是( ),表示( )个( )。

4、1个十里有( )个一,100里有( )个十。

5、由7个一和8个十组成的数是( );由5个十和3个一组成的数是  
( )。

6、一个两位数,十位上的数是3,个位上的数是9,它是( )。

三、计算。

$$31-4= \quad 8+26= \quad 30+36= \quad 81-6=$$

$$20+60= \quad 92-1= \quad 25+8= \quad 97-60=$$

$$50+16= \quad 82-5= \quad 58-20= \quad 39+40=$$

四、画线计算。

$$36+40+2= \quad 59-9-20= \quad 63-30+5= \quad 30+ \quad (11-4) =$$

$$47+ (18-9) = \quad 75-(10+50)= \quad 94- \quad (69-60) = \quad 32+40-6=$$

五、按规律填数。

1、50、( ) ( ) 80、( ) ( )。

2、64、( ) 62、( ) ( ) 59、( ) ( )。

六、解决问题。

1、小明已经写了20个字,还剩15个字没写。小明一共要写几个字?

2、妈妈今年38岁,我7岁。妈妈比我大几岁?

## 100 以内的数及加减法 (复习 2)

### 一、填一填。

- 1、写两个比 80 少得多的数：(      ) (      ); 再写两个比 80 多一些的数：(      ) (      )。
- 2、个位上和十位上的数都是 2，这个两位数是 (      )，它个位上的数表示 (      ) 个 (      )，十位上的数表示 (      ) 个 (      )。
- 3、50 前面的第一个数是 (      )，后面的第一个数是 (      )。
- 4、最小的一位数是 (      )，最大的一位数是 (      )，最小的两位数是 (      )，最大的两位数是 (      )。
- 5、写出 92 前面相邻的 4 个数：(      ) (      ) (      ) (      )。
- 6、写出 27 后面的第 4 个数 (      )。
- 7、68 接近的整十数是 (      )。

### 二、口算。

$$13-6= \quad 40-20= \quad 35-8= \quad 47-7=$$

$$25+30= \quad 15-8= \quad 16-9= \quad 7+33=$$

$$53+8= \quad 64-7= \quad 52+6= \quad 32-4=$$

$$97-8= \quad 16-7= \quad 21-3= \quad 98-90=$$

### 三、画线计算。

$$94-50+5= \quad 57+5-30= \quad 29-6+7= \quad 30+ \quad (11-4) =$$

$$47+ (18-9) = \quad 75-(10+50)= \quad 94- \quad (69-60) = \quad 32+40-6=$$

### 四、解决问题。

1、有 50 块饼干，每盒装 8 个。一共可以装满几盒？

2、车上原有 34 人。下去了 9 人，上来了 5 人。车上现在有多少人？

3、游泳的有 7 个小孩和 25 个大人。我们有 3 个救生员。

(1) 游泳池里的大人比小孩多多少人？

(2) 提出一个数学问题并解答？

## 综合作业 ( 1 )

### 一、填一填。

1、7 连续加 7，写出每次加得的和。

7、( ) ( ) ( ) ( ) ( ) ( )、

2、80 连续减 8，写出每次减得的差。

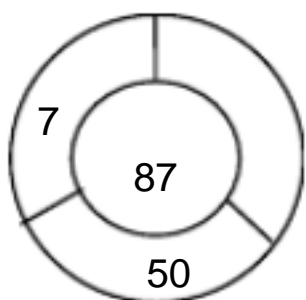
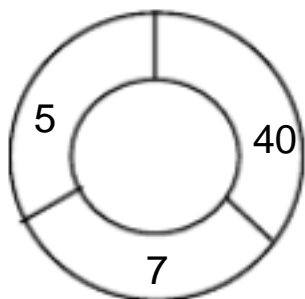
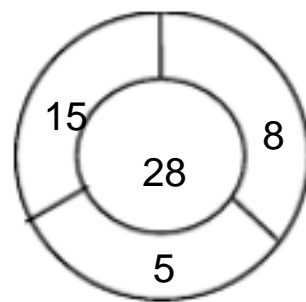
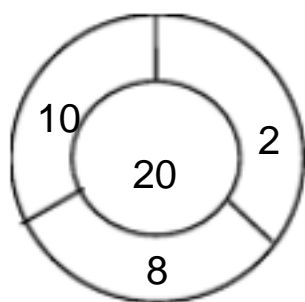
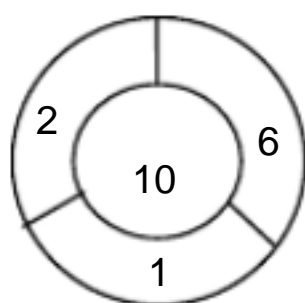
80、( ) ( ) ( ) ( ) ( ) ( )、

3、找规律填数。

(1) 7 11 15 ( ) ( ) 27、30、( )。

(2) 36 30 24 18 ( ) ( ) ( )。

(3)



### 二、计算。

$$6+9= \quad 7+6= \quad 15-6= \quad 17-8=$$

$$36+4= \quad 53+2= \quad 40+20= \quad 78+20=$$

$$68+8= \quad 7+77= \quad 69-6= \quad 56-30=$$

$$52-7= \quad 36-8= \quad 83-7= \quad 28+7=$$

### 三、画线计算。

$$54-5+30= \quad 76-6-8= \quad 43-(3+37)= \quad 39-(9-5)=$$

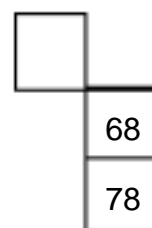
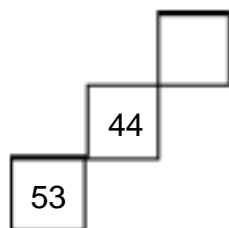
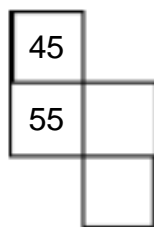
$$47+(18-9)= \quad 40+(15-8)= \quad 75+7-6= \quad 61-5+8=$$

#### 四、解决问题。

1、3 个同学一起折小星星，每人折了 6 个。分他们一共折了多少个小星星？

2、爸爸买了袋苹果，每袋 8 个，一共买了多少个苹果？

#### 3、根据百数表填数。



## 综合作业 ( 2 )

一、填一填。

1、46 里面有 (      ) 个十和 (      ) 个一。

2、一个两位数，个位上和十位上的数都是 9，这个数是 (      )，比这个  
数多 1 的数是 (      )。

3、填方框。

51		49		
----	--	----	--	--

26		28		
----	--	----	--	--

2	12	22			52		72
---	----	----	--	--	----	--	----

20	16	12			
----	----	----	--	--	--

4、6 元 = (      ) 角 ; 15 角 = (      ) 元 (      ) 角

40 角 = (      ) 元 ; 1 元 3 角 = (      ) 角。

二、在 里填上 “ > ”、“ < ”、“ = ”。

39-4    35    35+20    32    76-6    96

66-30    63    56-40    69    81+7    87

三、计算。

25+8=    97-60=    50+16=    82-5=

58-20=    65-7=    36+7=    39+40=

#### 四、画线计算。

$7+7-6=$     $47+8-6=$     $5+46-6=$     $13-4+5$

$6+40+30=$     $80-(50-20)$     $13-(4+5)$     $74-(12-4)$

#### 五、解决问题。

1、有 24 箱苹果。我每次运 8 箱。需要几次才能全部把苹果运走？

2、看表解答问题。

鸭	鹅	鸡
20 只	8 只	45 只

(1) 鹅比鸭少多少只？

$= ( \quad )$

(2) 鸡比鸭多多少只？

$= ( \quad )$

(3) 一共有多少只家禽？

$= ( \quad )$

### 综合作业 ( 3 )

#### 一、填空。

1、65 个位上的数是 (     ) , 表示 (     ) 个 (     ) ; 十位上的数是 (     ) , 表示 (     ) 个 (     ) 。

2、把 54、7、29、92、50 排列到下面的括号里。

(     ) > (     ) > (     ) > (     ) > (     )

3、正方形有 (     ) 条边 , 正方体有 (     ) 个面。

4、与 50 相邻的两个数是 (     ) 和 (     ) 。

5、1 元 = (     ) 角            4            角 = (     ) 分

20 角 = (     ) 元            0.50            元 = (     ) 角

3 元 3 角 + (     ) 元    1    元 6 角 - 9 角 = (     ) 角

6、写出 81 前面相邻的两个数 : (     ) 、 (     ) 。

#### 二、计算。

$$57+2= \quad 27+20= \quad 57+9= \quad 8+47=$$

$$57-2= \quad 57-20= \quad 57-9= \quad 75-7=$$

#### 三、画线计算。

$$13+7+54= \quad 67-8-50= \quad 38+ \quad (46+4) = \quad 83- \quad (27-20)$$

$$58- (26+4) = \quad 93- \quad (68-60) \quad 45+6-7= \quad 76-8+5=$$

#### 四、在 里填上合适的数。

$$36+ \quad =43 \quad \quad -50=16 \quad 25+ \quad =25-$$

$$10+30> \quad \quad -8<28 \quad \quad +9>24$$

#### 五、解决问题。



1、

饼干每包 4 元

巧克力每盒 6 元

蛋糕每块 5 元

(1) 小明买 3 包饼干用了多少钱？

(2) 小亮买 5 块蛋糕用了多少钱？

2、有 12 个苹果，每只小熊分 3 个，可以分给几只小熊？

## 综合作业 ( 4 )

### 一、填一填。

- 1、25、28、31、34、( ) ( )。
- 2、长方形有( )边，三角形有( )条边。
- 3、长方形的对边( )，正方形的四条边都( )。
- 4、两个同样的正方形可以拼成一个( )。
- 5、100元钱能换( )张20元的。
- 6、5角+6角=( )元( )角  
1元3角-3角=( )元( )角  
2元4角+6角=( )元

### 二、计算。

$$48+2= \quad 63-6= \quad 20+45= \quad 84-60=$$
$$80-8= \quad 9+25= \quad 96-8= \quad 25+7=$$

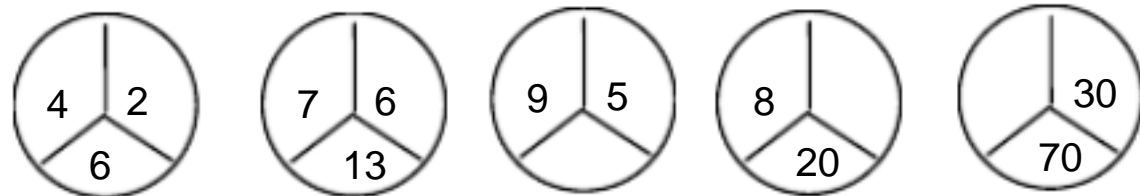
### 三、画线计算。

$$86+9+7= \quad 53-6-8= \quad 25+6-7= \quad 71-3-60=$$
$$34+(0+8)= \quad 46-(13-5) \quad 6+(50-4)= \quad 68-(77-70)=$$

### 四、按规律填数。

- 1、12、14、16、( ) ( ) ( ) ( )。
- 2、70、65、60、( ) ( ) ( ) ( )。

3、



### 五、解决问题。

1、3 个同学一起折纸飞机，每人折了 7 个。他们一共折发多少个？

2、妈妈买了 3 袋苹果，每袋 9 个，一共买了多少个苹果？

3、29 个梨，9 个装一袋，可以装向袋？

4、用 22 根同样长的小棒拼正方形，最多可以拼几个？